

令和3年度

川崎市立川崎高等学校附属中学校入学者決定検査

# 適性検査Ⅰ（45分）

— 注 意 —

- 1 「はじめ」の合図があるまで、この問題用紙を開いてはいけません。
- 2 問題は全部で2つあります。こちらから開くと**問題1**（全8ページ）になります。**問題2**（全5ページ）は反対面から始まります。
- 3 問題をよく読んで、答えはすべて解答用紙の決められたらんに、わかりやすくいいねいな文字で書きましょう。解答らんの外に書かれていることは採点しません。
- 4 解答用紙は全部で**3枚**あります。
- 5 計算やメモが必要なときは、解答用紙には書かずに、この問題用紙の余白を利用しましょう。
- 6 字数の指定のある問題は、指定された条件を守り、**問題1**はたて書きで、**問題2**は横書きで書きましょう。最初のマスから書き始め、文字や数字は一マスに一字ずつ書き、句読点「。、」やかっこなども一字に数え、一マスに一字ずつ書きます。ただし、**問題1**の(5)は、その問題の「**注意事項**」の指示にしたがいましょう。
- 7 「やめ」の合図があったら、途中でも書くのをやめ、筆記用具を机の上に置きましょう。

問題1 次のあ、い の文章と新聞記事、たろうさんとはなこさんの会話を読んで、あとの(1)～(5)の各問いに答えましょう。なお、問題作成のため、一部文章を省略しょうりやくしています。

あ

## 著作権の関係により省略

## 著作権の関係により省略

【齋藤孝『新聞力 できる人はこう読んでいる』(ちくまプリマー新書)】

著作権の関係により省略

著作権の関係により省略

【深光富士男『毎日新聞社 記事づくりの現場』(佼成出版社)】

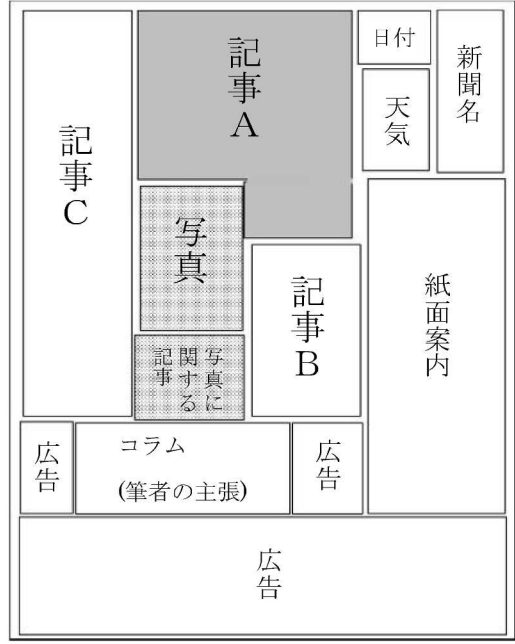
## 著作権の関係により省略

- (1) **あ**の——線①「画面をサーッと流してしまいがち」とは、どのような行動のことですか。「流す」と「音や様子を表す言葉」を問わずに、空らんにはまるように書きましよう。

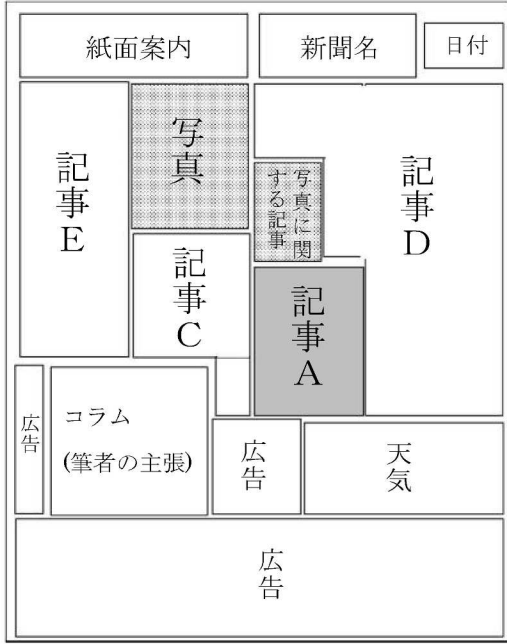
- (2) **い**の②に入る言葉を、**い**の文章から五字で書きぬきましよう。

- (3) **あ**と**い**の文章を読んだらうさんとはなこさんは、同じ日の全国紙を二紙と地方紙を二紙用意し、朝刊の一面記事の読み比べをしています。次のページ以降の新聞の図面と会話文を読み、問いに答えましよう。

全国紙「1」【二〇二〇年六月二十三日（火）朝日新聞朝刊一面】

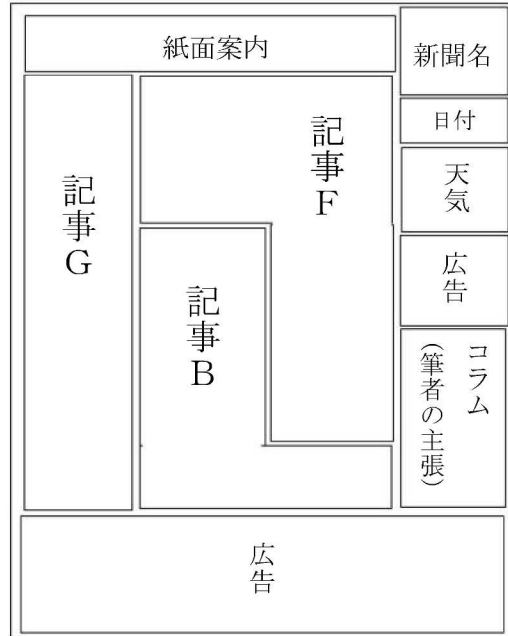


全国紙「2」【二〇二〇年六月二十三日（火）読売新聞朝刊一面】

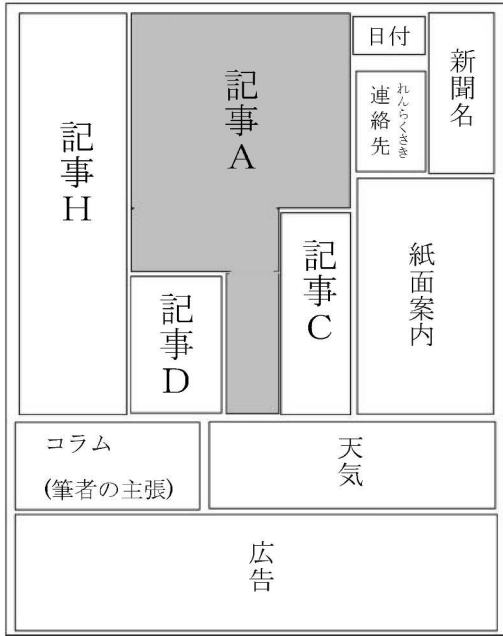


神奈川県地方紙「3」

【二〇二〇年六月二十三日（火）神奈川新聞朝刊一面】



兵庫県地方紙「4」【二〇二〇年六月二十三日（火）神戸新聞朝刊一面】



たろうさん 同じ日の朝刊なのに、レイアウトや内容が異なるね。

はなこさん そうだね。でも図面を見るだけでわかることもあるよ。

共通している記事を見てみましょう。

たろうさん 記事AとCは三つの新聞で、また記事BとDは二つの新聞で書かれているね。

はなこさん これらは、の文章に書いてあるであると言えるのではないかな。

たろうさん

なるほど。では反対に、地方紙だけについての記事F・

G・Hはと言えるね。

はなこさん 全国紙「1」「2」にのっている写真と写真に関する記事は、地方紙「3」「4」の一面にはのっていないけれどもなぜかな。

たろうさん

内容はどちらも「沖縄と戦争に関すること」だよ。沖縄の地上戦が終わったのが七十五年前。日付はこの新聞が発行された日の翌日だね。

はなこさん

そうか。この記事は全国紙ではというあつかいな

なかもしれないね。

(3)- i 会話文の中のとに入る言葉を、の文章の中からそれぞれ十一字で書きぬきましょう。

(3)- ii 会話文の中のに入る言葉として適切でないものを、次の1〜4の中から一つ選び、番号で答えましょう。

1. 沖縄での出来事だが、写真を使用して全国に知らせるべき内容
2. 沖縄での出来事だが、日本各地の人々に広く知らせるべき内容
3. 一面記事として、沖縄の人だけに知らせるべき内容
4. 一面記事として、全国の人に知らせるべき内容

(4) たろうさんとはなこさんは、三つの新聞に掲載されている「記事A」に注目しました。次に示す全国紙「1」の記事A、兵庫県けいしゅうの地方紙「4」の記事A、あとに続く会話文を読み、問いに答えましょう。

全国紙「1」の記事A

【二〇二〇年六月二十三日（火）朝日新聞朝刊一面】

著作権の関係により省略

兵庫県の地方紙「4」の記事A

【二〇二〇年六月二十三日（火）  
神戸新聞朝刊一面】

著作権の関係により省略

たろうさん

記事Aは、全国紙でも取り上げられているけれど、兵庫県の地方紙「4」ではとても大きく取り上げられているね。一方で神奈川県③の地方紙「3」では取り上げられていないのはなぜだろう。

はなこさん

記事を読んだらわかるのではないかな。読み比べてみよう。

たろうさん

なるほど、兵庫県の地方紙だからこそ書いてある内容があるね。⑥兵庫県の地方紙「4」がこれだけ大きく取り上げた理由がわかったよ。

はなこさん

同じ事柄（しごとがら）をあつかっている記事でも、内容は少し違うね。

たろうさん

全国紙「1」の記事Aと、兵庫県の地方紙「4」は、伝えたいことが少し違う気がするよ。

はなこさん

確かに、全国紙「1」は、「a」のように、主に計算速度のことをまとめて表にしているけれど、兵庫県の地方紙「4」は、世界一位であるくわしい内容、例えば ⑦などが文字で説明されているね。

たろうさん

他にもあるよ。全国紙「1」と兵庫県の地方紙「4」は、インタビューされている人が同じなのにコメントの内容が違うんだ。

はなこさん

全国紙「1」では、「覇権争いは続く。今後も使いやすさと速さを両立する研究を進めていきたい。」という言葉を取り上げているね。兵庫県の地方紙「4」のコメントでは、主に ⑧であることと、⑨可能性があることの二つの内容が書かれているよ。

たろうさん

コメントが違うと、記事全体の印象も変わるね。兵庫県の地方紙「4」を書いた人は読者に何を感（かん）じてもらいたくてこの記事を書いたのだろう。

はなこさん

わたしが兵庫県に住んでいたら、自分の住む街に世界一があるのはうれしいな。

たろうさん

確かに、ぼくもそう思うよ。しかも、世界一だけでなく、史上初「4冠（かん）」という言葉が見出しにあることで、スーパーコンピューターがいかにすごいかを伝えるよね。

はなこさん

見出しを見ると、記者の思いが見えてきそうだね。

(4)- i

たろうさんは、——線⑥「兵庫県ひょうごけんの地方紙「4」がこれだけ大きく取り上げた理由がわかったよ」と言っています。記事Aが兵庫県の地方紙「4」で大きく取り上げられたのはなぜか、解答用紙に合うように書きましょう。

(4)- ii

⑦に入る言葉を、「くこと。」という形にして十五字以内で書きましょう。

(4)- iii

⑧と⑨に入る言葉を、解答用紙に合うように書きましょう。

(4)- iv

——線⑩「読者に何を感じてもらいたくてこの記事を書いたのだろう」について、あなたは、記者が何を感じてもらいたくてこの記事を書いたと考えますか。——線⑩以降のたろうさんとはなごさんの会話を参考にして、書きましょう。

(5) あなたは、自分の小学校をしょうがく紹介する新聞を書くことになりました。あなたはどのような内容を一番大きな記事にしたいですか。②の文章を参考にして、「誰だれに読んでもほしいのか」、「読んだ人にどう感じてほしいのか」、「記事にするときに工夫したいことや注意したいこと」にふれながら、次の「注意事項」に合うように考えや意見を書きましょう。

「注意事項」

- 解答用紙2に三百字以上四百字以内で書きましょう。
- 原稿用紙の正しい用法で書きましょう。また漢字を適切に使いましよう。
- 題名や自分の名前は書かずに、一行目、一マス下げたところから書きましょう。
- 三段落以上の構成で書きましょう。
- 句読点「。、」やかっこなども一字に数え、一マスに一字ずつ書きましょう。また、段落を変えたときの残りのマス目も字数として数えます。

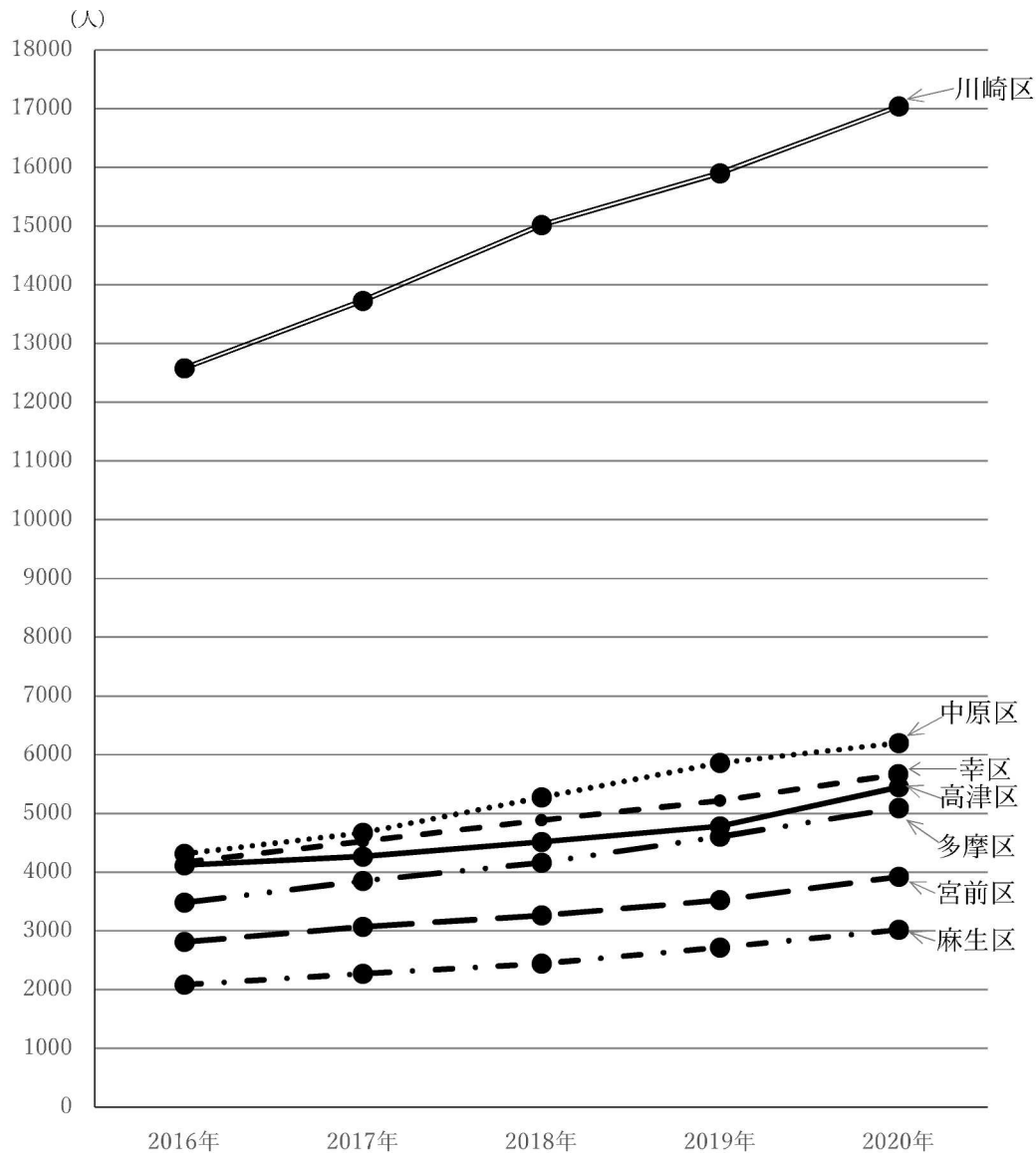
**問題 2** たろうさんとはなこさんが一緒に調べ学習で図書館に来ています。次の会話文を読んで、あとの(1)～(6)の各問いに答えましょう。

たろうさん：最近、川崎市の街中を歩いていて、外国人が増えている気がしたから、川崎市の公式ウェブサイトで調べてみたら2020年の3月末には、46408人の外国人が川崎市に住んでいるそうだよ。下のグラフ【資料1】を見てみると、住民として登録されている外国人の数がそれぞれの区で年々増加していることがわかるね。

はなこさん：同じ時期の川崎市の人口は、1535415人だから、外国人は川崎市全体の人口のうちの約(あ)%ということになりますね。

たろうさん：他にも【資料1】からいろいろなことがわかるね。

【資料1】 川崎市 区別外国人住民登録者数の移り変わり



(川崎市国際交流センターのデータより作成)

(1)  に当てはまる数字として適切なものを、次のア～オの中から1つ選び、記号で答えましょう。

- ア 1
- イ 3
- ウ 5
- エ 9
- オ 11

(2) 会話文中の下線部について、【資料1】からよみとれることとして当てはまらないものを次のア～オの中から1つ選び、記号で答えましょう。

- ア 2020年の外国人住民登録者数は、どの区も2000人を超えている
- イ 2020年で外国人住民登録者数が6000人を超えているのは、川崎区と中原区である
- ウ 2016年から2020年の川崎市の外国人住民登録者数は、川崎区が一番増加している
- エ 2020年の川崎区の外国人住民登録者数は、川崎市の外国人住民登録者全体の3分の1以下である
- オ 2020年の高津区・宮前区・多摩区の外国人住民登録者数の合計は、2016年の川崎区の外国人住民登録者数より多い

たろうさん：この〔資料2〕は2016年と2020年の国・地域別の川崎市外国人住民登録者数です。

はなこさん：日本に近い国・地域が上位に入っていますね。川崎市外国人住民登録者数で、一番増加したのはどこの国・地域だろう。

たろうさん：割合で調べてみよう。「2020年÷2016年」で求められるから、例えば、中国は、 $16606 \div 11527$ を計算することで、約1.44倍となることがわかるね。

はなこさん：そうすると、川崎市外国人住民登録者数で人口の増加の割合が一番大きい国・地域は、ですね。

たろうさん：同じアジアの国・地域だからかな。

〔資料2〕国・地域別 川崎市外国人住民登録者数

2016年統計

1位	中国	11527人
2位	韓国又は朝鮮	7842人
3位	フィリピン	3898人
4位	ベトナム	1868人
5位	台湾	841人
6位	インド	826人
7位	米国	779人
8位	ネパール	740人
9位	ブラジル	733人
10位	タイ	579人

2020年統計

1位	中国	16606人
2位	韓国又は朝鮮	8138人
3位	フィリピン	4700人
4位	ベトナム	4398人
5位	ネパール	1541人
6位	インド	1431人
7位	台湾	1237人
8位	米国	1078人
9位	ブラジル	877人
10位	タイ	682人

(川崎市統計データブックより作成)

(3) にあてはまる国・地域を次のア～オの中から1つ選び、記号で答えましょう。

- ア 中国
- イ 台湾
- ウ ベトナム
- エ インド
- オ ネパール

－ 次の日 －

はなこさん：先生、昨日図書館で外国人のデータについて調べてきました。

けいこ先生：そうですか。ほかにも図書館のデータの中におもしろいデータはありましたか。

たろうさん：はい。【資料4】にあるように、川崎市は図書館の人口1人当たりの図書貸出回数が21の大都市の中で、第3位です。

はなこさん：人口1人当たりの図書貸出回数とは、どんな数なのですか。

けいこ先生：ヒントは【資料5】の貸出者数（貸出回数）というところです。

川崎市の1人当たりの図書貸出回数の計算方法がわかりますか。

はなこさん：を計算すると…、約1.88になりました。

はなこさん：そうすると川崎市の図書館の数や図書冊数は多いのですか。

たろうさん：【資料5】によれば、1位のさいたま市は図書館数が26で図書冊数は約354万冊で4位の新潟市は図書館数が20で図書冊数は約276万冊です。

はなこさん：では、川崎市はさいたま市のちょうど半分の図書館数で新潟市の約0.8倍の図書冊数ですね。

【資料3】各都市の人口

都市	人口(人)
さいたま市	1286082
静岡市	699087
川崎市	1503690
新潟市	804152
京都市	1472027

(2017年 大都市比較統計年表より作成)

【資料4】人口1人あたり図書貸出回数

順位	都市	1人あたり図書貸出回数
1	さいたま市	1.99
2	静岡市	1.90
3	川崎市	1.88
4	新潟市	1.75
5	京都市	1.65

(2017年 カワサキをカイセキより作成)

【資料5】公立図書館数及び<sup>えつらん</sup>閲覧人員等

都市	図書館総数	図書冊数	貸出者数（貸出回数）	貸出冊数
さいたま市	26	3539351	2563944	9469604
静岡市	13	3091411	1326259	4204642
川崎市	(え)	(お)	2822456	6622417
新潟市	20	2761736	1407675	4849270
京都市	22	3300395	2425024	7594951

(2017年 大都市比較統計年表より作成)

(4) にあてはまる式を書きましょう。

(5) 【資料5】の空らん(え)、(お)について、図書館数と図書冊数の組み合わせとして正しいものを次のア～エの中から1つ選び、記号で答えましょう。

ア (え) 13 (お) 2193775

イ (え) 13 (お) 3193775

ウ (え) 13 (お) 2693775

エ (え) 14 (お) 1693775

たろうさん：ところで、どんな年代の人が多く本を借りているのかな。

はなこさん：年代ごとの貸出者数の推移【資料6】を見つけました。

たろうさん：年代別で比較すると面白いね。40代の貸出者数は2008年と2011年を比較すると、  
とても増えていることがわかります

けいこ先生：2009年からは、貸出カードの事前申し込みや予約受付メールなどをウェブサイトから  
行えるようになったことで便利になりました。また、サッカーチームの川崎フロンタ  
ーレとの共同事業なども理由かもしれませんね。

はなこさん：便利になると気軽に利用しやすくなりますね。

たろうさん：この【資料6】の、2008年に20代だった人たちのほとんどは2017年には30代にな  
っていることになるのかな。

はなこさん：もし同じ人がずっと川崎市に住んでいるとすれば、2008年に60代だった人は2017年  
に70代になると考えて、貸出者数は、54000人増えて、その割合は2008年の約130%  
になりますね。

たろうさん：そうすると、貸出者数が最も増えたのは(か)の年代の人で、増えた割合が最も  
大きいのは(き)の年代の人となるね。

けいこ先生：面白いことに気付きましたね。

はなこさん：では、さっそく発表用のデータをまとめてみます。

【資料6】年代別貸出者数[単位：人]

	10代	20代	30代	40代	50代	60代	70代
2008年	134912	119464	356459	324351	186866	187996	93455
2011年	205939	157976	471905	558669	279022	314944	149337
2014年	236715	162886	469687	663380	369488	366242	193267
2017年	232641	141505	416416	690119	428069	366715	241996

(2008～2017年 川崎市立図書館での貸出データより作成)

(6) (か)、(き)にあてはまる年代を、次のア～エの中からそれぞれ1つずつ選び、  
記号で答えましょう。

- ア 2008年に10代で2017年に20代
- イ 2008年に20代で2017年に30代
- ウ 2008年に30代で2017年に40代
- エ 2008年に40代で2017年に50代





適性検査 I 解答用紙 3

問題 2

(1)

--

(2)

--

(3)

--

(4)

--

(5)

--

(6)

(か)	(き)

下のらんには  
記入しない

(1)

--

(2)

--

(3)

--

(4)

--

(5)

--

(6)

--

受検番号	氏 名

合 計

--